


# UČNA POT PO LUKI KOPER

Ime in priimek: \_\_\_\_\_

Razred: \_\_\_\_\_



## SPLOŠNO

1. Pristanišče je bilo ustanovljeno leta \_\_\_\_\_. V začetku se je imenovalo \_\_\_\_\_ . Prva čezoceanska ladja, ki so jo privezali v pristanišču, je bila \_\_\_\_\_ (1958).
2. Naštej nekaj dejavnikov, zaradi katerih je nastalo pristanišče Luka Koper.  
\_\_\_\_\_  
\_\_\_\_\_
3. Katere so osnovne dejavnosti Luke Koper? Obkroži pravilen odgovor.
  - a) Razkladanje ladij, skladiščenje tovora in prevoz do trgovin.
  - b) Nakladanje, razkladanje ladij, vagonov in tovornjakov ter skladiščenje tovora in dodatna dela na skladišču.
  - c) Nakladanje ladij in tovornjakov, prodaja blaga (banan, žit, ...) ter skladiščenje.

## POTNIŠKI TERMINAL

4. Komu je namenjen potniški terminal? \_\_\_\_\_
5. Zakaj morajo potniki, ko vstopijo v Luko Koper, policistom pokazati ustrezní dokument? \_\_\_\_\_
6. Na potniškem terminalu pristajajo:
  - a) trajekti,
  - b) jahte,
  - c) ladje za križarjenje,
  - č) tankerji.



## TERMINAL ZA GENERALNE TOVORE

7. Generalni tovor je \_\_\_\_\_.  
Izmed naštetih surovin podčrtaj tiste, ki spadajo med generalni tovor: les, premog, kava, riž, jedilno olje, pločevina, železo, papir, železova ruda, sadje in zelenjava, hladilniki in televizorji.

8. Kako v luki Koper dozoriijo banane?

---

---



## KONTEJNERSKI TERMINAL

9. Naštej nekaj vrst tovara, ki potuje v kontejnerjih.

---

10. V čem se razlikujeta kontejner za globoko zamrznjeno hrano in igrače?

---

11. Sopomenka za kontejner je \_\_\_\_\_.

*Sopomenka je beseda, ki ima enak pomen kot kaka druga beseda.*

## TERMINAL ZA LES

12. Nariši, kako v pristanišču skladiščijo les.

13. Zakaj kupci cenijo les, ki je skladiščen v koprskem pristanišču?

---

---

## TERMINAL ZA SIPKE IN RAZSUTE TOVORE

14. Kateri tovor je razsuti tovor? Pobarvaj pravilne odgovore.

železova ruda	pšenica	sol	premog
hlodi	hladilniki	banane	pločevina
	avtomobili	nafta	

15. Opiši, kako natovorijo oz. raztovorijo žito.

---

---

16. Kako v koprskem pristanišču ravnajo s sipkim tovorom?

---

---

17. Zakaj so bazeni na energetske terminalu najgloblji (približno 18 m)?

---

---

18. Koliko nogometnih igrišč bi postavili na večjo ladjo? \_\_\_\_\_

## TERMINAL ZA TEKOČE TOVORE

19. Kako tekoče tovore (npr. bencin, kurilno in rastlinsko olje, alkohol, kemikalije – topila) pretovorijo iz ladje?

---

20. Kje skladiščijo tekoče tovore?

---

---



21. Zakaj morajo bazen okoli ladje ograditi s plavajočo zaveso?

---

## AVTOMOBILSKI TERMINAL

22. Obkroži zastave držav, iz katerih prihajajo avtomobili.



JP



USA



DE



BR



IR



GB



KR



SE

23. Koliko osebnih avtomobilov bi lahko uskladiščili v garažno hišo?

---

## MEHANIZACIJA IN ORGANIZACIJA

24. Tovor po luki prevažajo z \_\_\_\_\_, s \_\_\_\_\_  
in s \_\_\_\_\_.

25. Poimenuj naprave na fotografijah.



---

---

---

Katere naprave so še pomembne pri raztovarjanju tovora?

---

26. Poveži skladišče s tovorom.

Na črtico pred vsako besedo ali besedno zvezo napiši ustrezno številko.

_____ hladilnica	1	nafta
_____ silos	2	les
_____ celica za zorenje	3	premog
_____ zaprto skladišče	4	bombaž
_____ nadkrito skladišče	5	meso
_____ odprto skladišče	6	žitarice
_____ cisterna	7	banane
_____ protipožarno skladišče	8	bela pločevina

27. Zakaj potrebuje Luka Koper različna skladišča?

\_\_\_\_\_

28. Kdo od navedenih ljudi **ni** zaposlen v Luki Koper? Prečrtaj napačen odgovor.

ladijski mornar

tajnica

kapitan tankerja

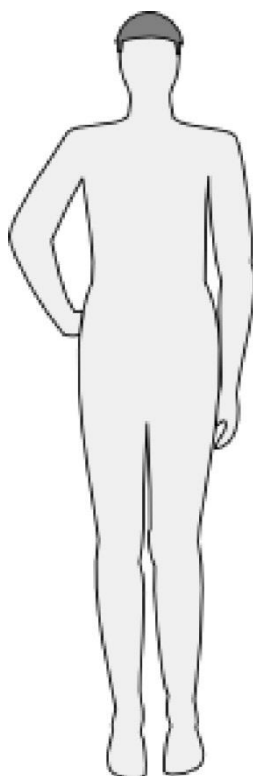
bagerist

viličarist

živilski tehnik

ladijski kuhar

skladiščnik



Kateri poklic iz Luke Koper bi opravljal/a? Nariši se in poklic opiši.

\_\_\_\_\_

\_\_\_\_\_

\_\_\_\_\_

\_\_\_\_\_

\_\_\_\_\_

\_\_\_\_\_

## SKRB ZA ČISTO OKOLJE

29. Katera reka teče skozi Luko Koper? \_\_\_\_\_
30. V bližini pristanišča je zaščiteno območje, naravni park \_\_\_\_\_, ki je največje polslano \_\_\_\_\_ v Sloveniji. Tu se mešata slana morska voda in sladka voda iz reke \_\_\_\_\_. Reka ima tukaj pomembno vlogo, saj uravnava \_\_\_\_\_ in prinaša \_\_\_\_\_ v omenjeni zatok.
31. Luka Koper je eno najlepših evropskih pristanišč. Kako v luki skrbijo za čisto okolje?

V Luki Koper ločujejo odpadke.

DRŽI                      NE DRŽI

V Luki Koper raste veliko različnih dreves, od tega je 200 oljk.

DRŽI                      NE DRŽI

Biološke odpadke odvažajo na smetišče.

DRŽI                      NE DRŽI

Opadke, ki nastanejo na ladji, odvržejo na odprto morje.

DRŽI                      NE DRŽI

Okoli skladišča železove rude in premoga je postavljena visoka ograda.

DRŽI                      NE DRŽI

Ekološka flota Luke Koper ima trenutno eno plovilo.

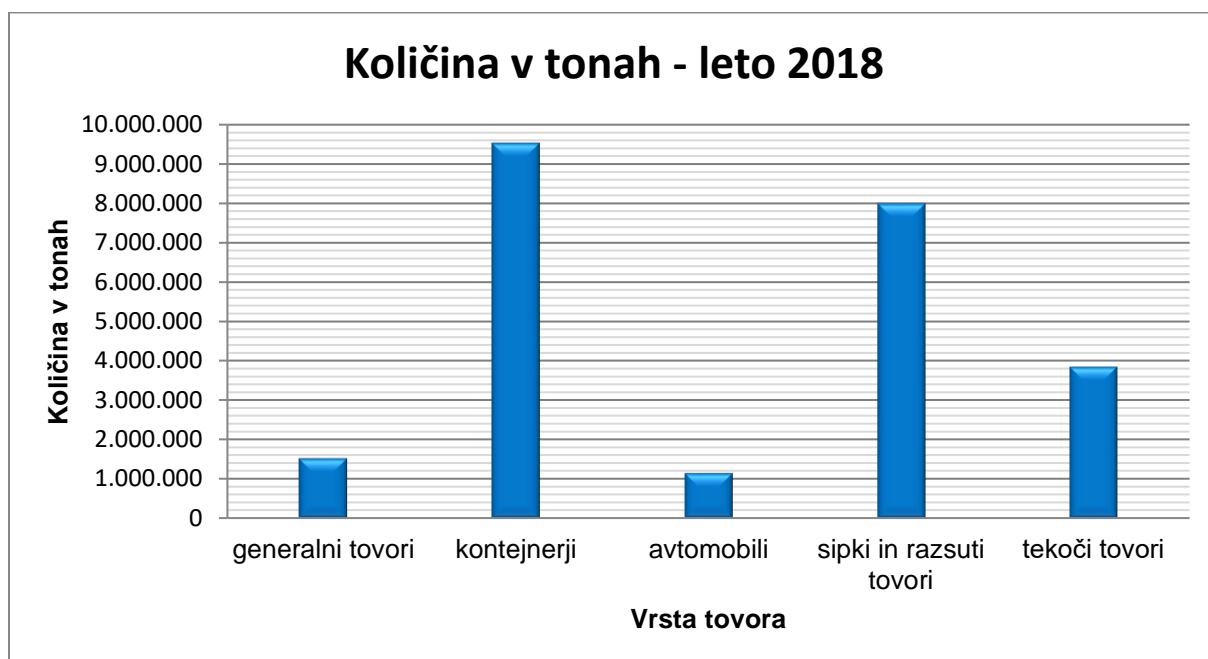
DRŽI                      NE DRŽI

32. Zakaj koprskemu pristanišču pravimo »mesto v malem«?

---

---

33. Histogram prikazuje količino pretovorjenega tovora v Luki Koper za leto 2018. Oglej si histogram in dopolni tabelo.

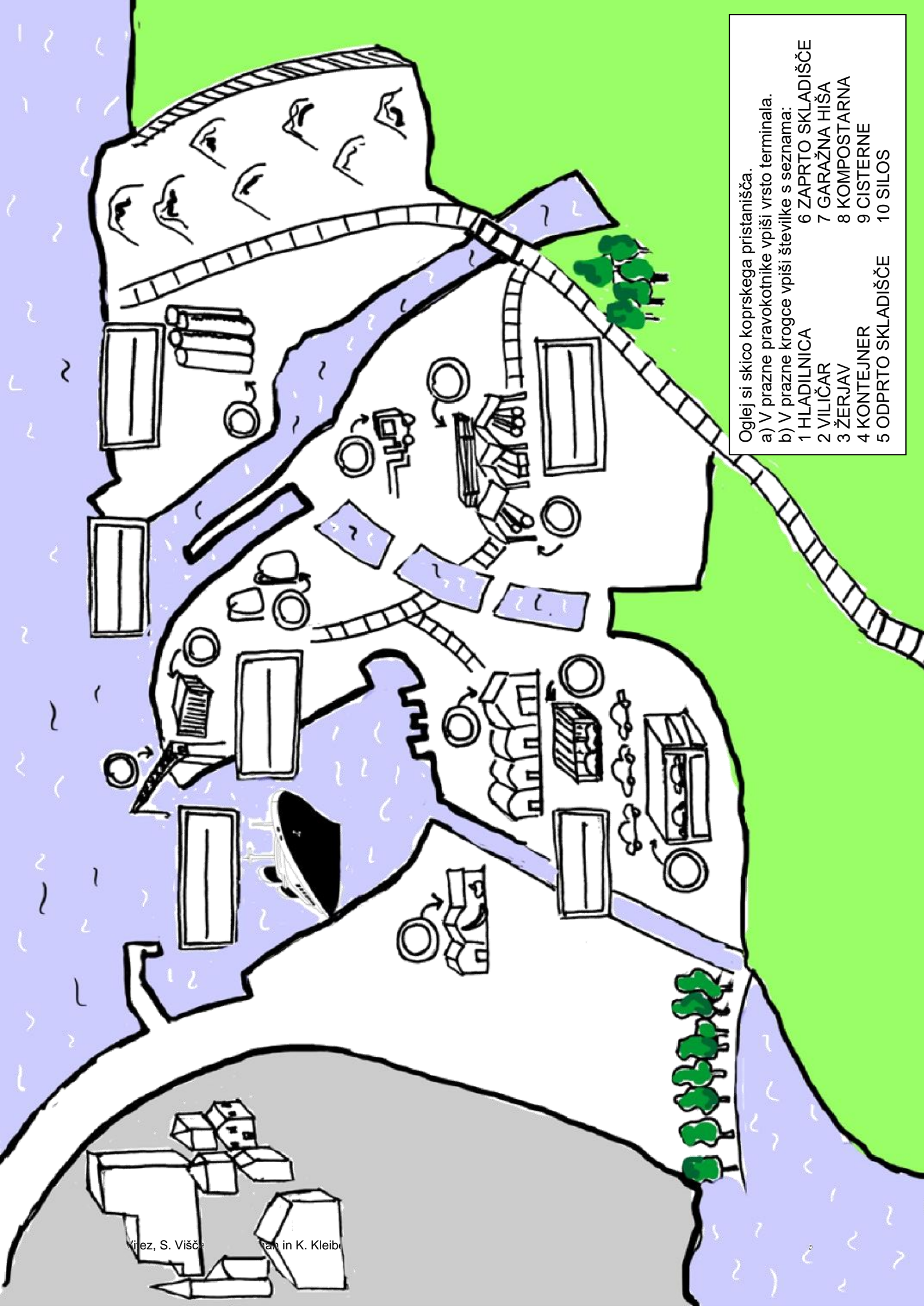


VRSTE TOVORA	KOLIČINA V TONAH
generalni tovari	
kontejnerji	
avtomobili	
sipki in razsuti tovari	
tekoči tovari	

Odgovori na vprašanja.

- Razvrsti količino blaga po velikosti od najmanjšega do največjega.  
\_\_\_\_\_
- Česa so v letu 2018 pretovorili največ? \_\_\_\_\_
- Česa so v letu 2018 pretovorili najmanj? \_\_\_\_\_
- Koliko sipkega tovora so pretovorili? \_\_\_\_\_
- Koliko ton blaga so v Luki Koper pretovorili v letu 2018? \_\_\_\_\_





Oglej si skico koprskega pristanišča.

a) V prazne pravokotnike vpiši vrsto terminala.

b) V prazne kroge vpiši številke s seznama:

- |                    |                    |
|--------------------|--------------------|
| 1 HLADILNICA       | 6 ZAPRTO SKLADIŠČE |
| 2 VILIČAR          | 7 GARAŽNA HIŠA     |
| 3 ŽERJAV           | 8 KOMPOSTARNA      |
| 4 KONTEJNER        | 9 CISTERNE         |
| 5 ODPRTO SKLADIŠČE | 10 SILOS           |

Delovno gradivo »Učna pot po Luki Koper« so pripravile in oblikovale profesorice razrednega pouka Osnovne šole Dušana Bordona iz Kopra: Adriana Vitez, Sabina Višček in Ester Križman v sodelovanju z Viktorjem Udovičem, vodičem po luki Koper.

Ilustracijo na zadnji strani je narisala profesorica likovne vzgoje Katarina Kleibencetl.

Pregled, urejanje, izbor fotografij in naslovnica: Mateja Dominko, Luka Koper.

Projekt je bil v celoti financiran iz sklada Luke Koper, d. d. - Živeti s pristaniščem (januarja 2013). Brez pisnega dovoljenja Luke Koper, d. d., je prepovedana predelava tega avtorskega dela v okviru Zakona o avtorskih in sorodnih pravicah.

Dokument je bil zadnjič ažuriran januarja 2019.